












XLI Ogólnopolski Turniej Bezpieczeństwa w Ruchu Drogowym FINAŁ POWIATU WADOWICKIEGO – 23.04.2018R.

/Gimnazjum/ TEST JEDNOKROTNEGO WYBORU - WIEDZA/

<p>1. Po obróceniu się przez lewe ramię (upewnieniu czy nikt nas nie chce wyprzedzić) podczas wykonywania manewru skrętu w lewo, następną czynnością jaką powinieneś wykonać jest:</p> <p>a. zbliżenie się do osi jezdni; b. wystawienie lewej ręki; c. upewnienie się czy nic nie nadjeżdża z naprzeciwka.</p>	<p>2. Przedstawiony znak ustawiany jest:</p> <p>a. przed przejazdem kolejowym; b. na skrzyżowaniu z drogą podporządkowaną; c. na skrzyżowaniu dróg równorzędnych.</p> 
<p>3. Znak ten ostrzega Ciebie o możliwości poślizgu roweru spowodowanej:</p> <p>a. oszronieniem jezdni; b. zalegającym śniegiem na jezdni; c. stałym lub okresowym jej zawilgoceniem.</p> 	<p>4. Widząc ten znak, czy możesz spodziewać się wyprzedzania przez pojazd silnikowy, jeżeli będziesz kierował(a) rowerem?</p>  <p>a. tak, jest to znak nakazujący wyprzedzanie pojazdów jednośladowych; b. tak, zakaz wyprzedzania dotyczy pojazdów silnikowych wielośladowych; c. nie, jest to znak zakazujący wyprzedzania wszelkich pojazdów.</p>
<p>5. Który ze znaków dotyczy szkół?</p> <p>a. znak 1; b. znak 2; c. znak 3.</p> <div style="display: flex; justify-content: space-around; align-items: center;"> <div style="text-align: center;"> <p>1</p>  </div> <div style="text-align: center;"> <p>2</p>  </div> <div style="text-align: center;"> <p>3</p>  </div> </div>	<p>6. Rowerzysta widząc ten znak:</p> <p>a. powinien być przygotowany do wjechania na sąsiedni lewy pas ruchu;</p>  <p>b. powinien być przygotowany do skręcenia na skrzyżowaniu w lewo; c. może bez obawy jechać nadal tym pasem ruchu.</p>
<p>7. Przedstawiony znak drogowy:</p> <p>a. ostrzega o mogącym występować oszronieniu jezdni;</p>  <p>b. ostrzega o możliwości poślizgu spowodowanego okresowym zwilgoceniem jezdni; c. ostrzega o śliskiej jezdni spowodowanej zmianą nawierzchni.</p>	<p>8. Przedstawiony sygnalizator S-3 zezwala:</p> <p>a. na jazdę w lewo;</p>  <p>b. na jazdę w lewo i zawracanie; c. na warunkowe skręcenie w lewo.</p>

<p>9. Na jakim odcinku drogi obowiązują znaki zakazu?</p> <ol style="list-style-type: none"> na odcinku 100 m; od znaku do najbliższego skrzyżowania; od znaku do niebezpieczeństwa przed którym ostrzega znak. 	<p>10. Widząc zbliżający się pojazd uprzywilejowany, kierujący pojazdem powinien:</p> <ol style="list-style-type: none"> ułatwić mu przejazd zatrzymać się w każdej sytuacji zjechać na chodnika lub pobocze w każdej sytuacji
<p>11. Podczas wyprzedzania kolumny pieszych motorowzysta musi zachować odstęp nie mniejszy niż:</p> <ol style="list-style-type: none"> pół metra; 1 metr; półtora metra. 	<p>12. Czterokołowiec jest:</p> <ol style="list-style-type: none"> pojazdem samochodowym; pojazdem wolnobieżnych; samochodem osobowym.
<p>13. Przechodzenie przez jezdnię poza przejściem dla pieszych na drodze dwujezdniowej, jest:</p> <ol style="list-style-type: none"> zabronione poza obszarem zabudowanym; zabronione na obszarze zabudowanym; zawsze dozwolone pod warunkiem zachowania szczególnej ostrożności. 	<p>14. Jeżeli poniższy znak drogowy jest umieszczony na skrzyżowaniu, to kierujący:</p>  <ol style="list-style-type: none"> może wykonać manewr skrętu w lewo; nie może zawrócić na następnym skrzyżowaniu; może zawrócić na następnym skrzyżowaniu.
<p>15. Używać elementów odblaskowych w sposób widoczny dla innych uczestników ruchu podczas poruszania się po jezdni po zmięczeniu poza obszarem zabudowanym są obowiązujące:</p> <ol style="list-style-type: none"> tylko dzieci w wieku do 15 lat; wszystkie osoby; tylko dzieci w wieku szkolnym. 	<p>16. Długość zespołu pojazdów złożonego z motoroweru i przyczepy może mieć:</p> <ol style="list-style-type: none"> 4,2 m; 3,5 m; 4,5 m.
<p>17. Ilu maksymalnie pieszych idących jezdnią w kolumnie może iść obok siebie, z wyjątkiem kolumny wojskowej:</p> <ol style="list-style-type: none"> 4; 6; 2. 	<p>18. Widząc ten sygnał, kierujący pojazdem:</p>  <ol style="list-style-type: none"> może zawrócić bez zatrzymania; może skręcić w lewo po uprzednim zatrzymaniu się i upewnieniu, że nie utrudni to ruchu; może skręcić w lewo bez zatrzymywania się.

<p>19. Niewidomy podczas samodzielnego poruszania się po drodze jest obowiązany:</p> <ol style="list-style-type: none"> mieć przy sobie odpowiednie dokumenty; mieć na prawym rękawie odpowiednie oznakowanie; nieść białą laskę w sposób widoczny dla innych uczestników ruchu. 	<p>20. Kierujący motocyklem jest obowiązany:</p> <ol style="list-style-type: none"> jechać z prędkością nie większą niż 30 km/h w strefie zamieszkania dostosować prędkość jazdy tylko do znaków drogowych w strefie zamieszkania ustępować pierwszeństwa wszystkim pieszym, nawet poruszającym się po drodze
<p>21. Tabliczka „Agatka” jest połączona ze znakiem:</p> <ol style="list-style-type: none"> nakazu „droga dla pieszych”; ostrzegawczym „dzieci”; informacyjnym „przejście dla pieszych”. 	<p>22. Rowerzysta może korzystać z chodnika pod warunkiem, że:</p> <ol style="list-style-type: none"> wieje bardzo silny wiatr opiekuje się on osobą w wieku 11 lat kierującą rowerem odpowiedzi a i b są prawidłowe
<p>23. Za tym znakiem obowiązuje zakaz wyprzedzania:</p> <ol style="list-style-type: none"> pojazdów silnikowych wielośladowych; motocykla jednośladowego; wszystkich pojazdów wielośladowych. 	<p>24. Dojeżdżając do tego znaku motocyklista ma:</p> <ol style="list-style-type: none"> obowiązek zatrzymania się przed znakiem obowiązek zatrzymania się przed wjazdem na drogę z pierwszeństwem przejazdu obowiązek ustąpienia pierwszeństwa tylko pojazdom jadącym z prawej strony
<p>25. Poruszanie się czterokołowcem po drodze ekspresowej jest:</p> <ol style="list-style-type: none"> dozwolone; zabronione; dozwolone z wyjątkiem czterokołowców lekkich. 	

Opracował: P.M. KPP Wadowice