











XLI Ogólnopolski Turniej Bezpieczeństwa w Ruchu Drogowym

FINAŁ POWIATU WADOWICKIEGO – 23.04.2018R.

/Szkoła Podstawowa/ TEST JEDNOKROTNEGO WYBORU - WIEDZA/

<p>1. Znak ten nie dotyczy:</p> <ul style="list-style-type: none">a. motocyklisty;b. kierującego trolejbusem;c. motorowerzysty. 	<p>2. Widząc ten znak, czy możesz spodziewać się wyprzedzania przez pojazd silnikowy, jeżeli będziesz kierował(a) rowerem?</p>  <ul style="list-style-type: none">a. tak, jest to znak nakazujący wyprzedzanie pojazdów jednośladowych;b. tak, zakaz wyprzedzania dotyczy pojazdów silnikowych wielośladowych;c. nie, jest to znak zakazujący wyprzedzania wszelkich pojazdów.
<p>3. Przedstawiony znak:</p>  <ul style="list-style-type: none">a. obowiązuje do najbliższego skrzyżowania;b. obowiązuje do znaku oznaczającego wyjazd ze strefy ograniczonej prędkości;c. oznacza zakaz wjazdów dla rowerów nie wyposażonych w licznik prędkości.	<p>4. Taki sygnał na sygnalizatorze przed skrzyżowaniem:</p>  <ul style="list-style-type: none">a. oznacza bezwarunkowy nakaz jazdy;b. oznacza, że podczas skrętu w lewo przejazd będzie bezkolizyjny;c. nie zezwala rowerzyście na wjazd, jeżeli utrudniłoby to opuszczenie jezdni pieszym.
<p>5. Przedstawiony znak drogowy:</p>  <ul style="list-style-type: none">a. ostrzega o mogącym występować oszronieniu jezdni;b. ostrzega o możliwości poślizgu spowodowanego okresowym zwilgoceniem jezdni;c. ostrzega o śliskiej jezdni spowodowanej zmianą nawierzchni.	<p>6. Przedstawiony sygnalizator S-3 zezwala:</p>  <ul style="list-style-type: none">a. na jazdę w lewo;b. na jazdę w lewo i zawracanie;c. na warunkowe skrócenie w lewo.
<p>7. Liczba wózków rowerowych jadących w zorganizowanej kolumnie nie może przekraczać:</p> <ul style="list-style-type: none">a. – 10;b. – 15;c. – 5.	<p>8. Znak ten nie dotyczy:</p>  <ul style="list-style-type: none">a. rowerzystów i motorowerzystów;b. kierowców samochodów ciężarowych;c. jadącego motocyklem.

<p>9. Znak ten ostrzega Ciebie o możliwości poślizgu roweru spowodowanej:</p> <ol style="list-style-type: none"> oszronieniem jezdni; zalegającym śniegiem na jezdni; stałym lub okresowym jej zawilgoceniem. 	<p>10. Tabliczka „Agatka” jest połączona ze znakiem:</p> <ol style="list-style-type: none"> nakazu „droga dla pieszych”; ostrzegawczym „dzieci”; informacyjnym „przejście dla pieszych”. 
<p>11. Podczas wyprzedzania kolumny pieszych motorowalista musi zachować odstęp nie mniejszy niż:</p> <ol style="list-style-type: none"> pół metra; 1 metr; półtora metra. 	<p>12. Czterokołowiec jest:</p> <ol style="list-style-type: none"> pojazdem samochodowym; pojazdem wolnobieżnych; samochodem osobowym.
<p>13. Używać elementów odblaskowych w sposób widoczny dla innych uczestników ruchu podczas poruszania się po jezdni po zmierzchu poza obszarem zabudowanym są obowiązane:</p> <ol style="list-style-type: none"> tylko dzieci w wieku do 15 lat; wszystkie osoby; tylko dzieci w wieku szkolnym. 	<p>14. W czasie poruszania się kolumny pieszych w warunkach niedostatecznej widoczności:</p> <ol style="list-style-type: none"> pierwszy z idących z lewej strony obowiązany jest nieść latarkę ze światłem białym skierowanym do przodu; pierwszy z idących z prawej strony obowiązany jest nieść latarkę ze światłem białym skierowanym do przodu; ostatni z idących z lewej strony obowiązany jest nieść latarkę ze światłem czerwonym skierowanym do przodu.
<p>15. Zabrania się zawracania rowerem:</p> <ol style="list-style-type: none"> na skrzyżowaniach na drodze jednokierunkowej na jezdniach, na których środkiem poprowadzono linię przerywaną 	<p>16. Zabrania się zatrzymania motoroweru:</p> <ol style="list-style-type: none"> na poboczu obok linii przerywanej wyznaczającej krawędź jezdni; za znakiem „zakaz zatrzymywania się” i umieszczonej pod nim tabliczki wskazującej na koniec tego zakazu; w odległości mniejszej niż 15 m od punktów krańcowych wysepki, jeżeli jezdni z prawej jej strony ma tylko jeden pas ruchu.
<p>17. Kierowca kieruje:</p> <ol style="list-style-type: none"> dowolnym pojazdem; pojazdem zaopatrzonym w silnik; pojazdem silnikowym i motorowerem. 	<p>18. Poruszanie się czterokołowcem po drodze ekspresowej jest:</p> <ol style="list-style-type: none"> dozwolone; zabronione; dozwolone z wyjątkiem czterokołowców lekkich.

<p>19. Parkowanie roweru na chodniku jest:</p> <ul style="list-style-type: none"> a. dopuszczalne pod warunkiem, że nie obowiązuje tam zakaz zatrzymywania i szerokość chodnika pozostawiona dla pieszych nie jest mniejsza niż 1,5 metra; b. dopuszczalne pod warunkiem, że nie obowiązuje tam zakaz zatrzymywania i szerokość chodnika pozostawiona dla pieszych jest większa niż 1 metr; c. zabronione. 	<p>20. Pieszy w razie braku chodnika:</p> <ul style="list-style-type: none"> a. może iść lewą stroną jezdni pomimo, że może korzystać z pobocza, lecz musi ustępować miejsca nadjeżdżającemu pojazdowi; b. może iść lewą stroną jezdni, jeżeli nie można korzystać z pobocza, pod warunkiem zajmowania miejsca jak najbliżej jej krawędzi i ustępowania miejsca nadjeżdżającemu pojazdowi; c. może iść lewą stroną jezdni jeżeli nie można korzystać z pobocza, pod warunkiem zajmowania miejsca jak najbliżej jej krawędzi, wtedy nie musi ustępować miejsca nadjeżdżającemu pojazdowi.
<p>21. Pierwszeństwo na skrzyżowaniu może być wyrażone znakiem:</p> <ul style="list-style-type: none"> a. 1 i 2; b. 1; c. wszystkimi. <p>1 2 3</p> 	<p>22. Czy na drogach o dwóch jezdniach kierujący zawsze jest obowiązany jechać prawą jezdnią?</p> <ul style="list-style-type: none"> a. tak, chyba że ruch jest skierowany (przy pomocy oznakowania) na lewą jezdnię, b. nie, może jechać lewą jezdnią jeżeli prawa jest zajęta, c. nie, może jechać lewą jezdnią, jeżeli ma zamiar skręcić w lewo.
<p>23. Kierujący rowerem, widzący wyjeżdżający autobus, który sygnalizuje zamiar wyjazdu z oznaczonego przystanku autobusowego poza obszarem zabudowanym:</p> <ul style="list-style-type: none"> a. zawsze musi się zatrzymać i umożliwić wyjazd autobusu; b. ma pierwszeństwo przejazdu przed autobusem; c. obie odpowiedzi są błędne. 	<p>24. Rowerzysta może przejechać przez skrzyżowanie z sygnalizacją świetlną, na którym policjant kieruje ruchem, jeżeli:</p> <ul style="list-style-type: none"> a. zapali się zielony sygnał dla jego kierunku ruchu, b. policjant da sygnał przejazdu dla jego kierunku ruchu, c. znajduje się na drodze oznaczonej jako droga z pierwszeństwem przejazdu
<p>25. Na przejeździe dla rowerzystów oznaczonym tym znakiem poziomym, rowerzysta:</p> <ul style="list-style-type: none"> a. nie może zwolnić bez uzasadnionej przyczyny; b. powinien zachować ostrożność; c. może wjechać bezpośrednio przed nadjeżdżający pojazd. 	