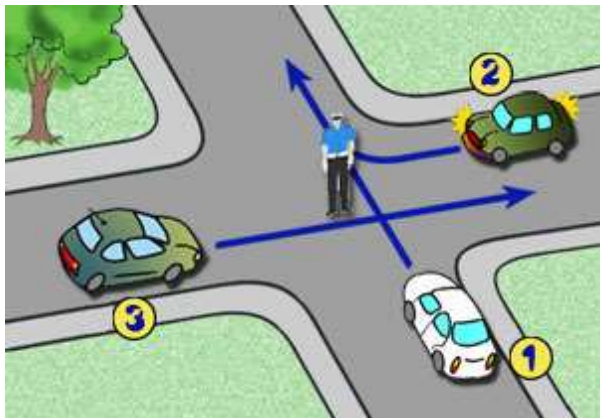


XLI Ogólnopolski Turniej Bezpieczeństwa w Ruchu Drogowym

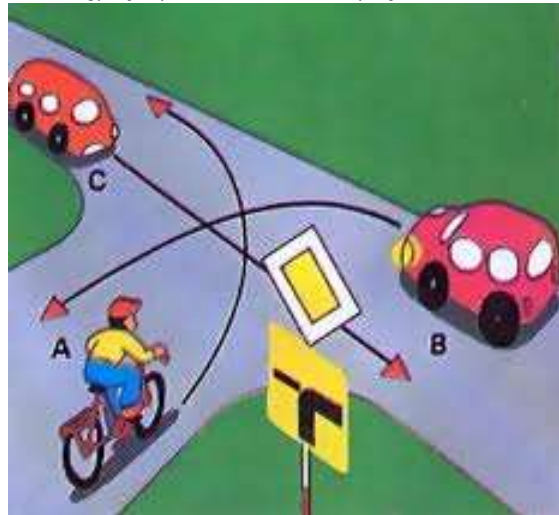
FINAŁ POWIATU WADOWICKIEGO- 23.04.2018R.

/Gimnazjum TEST JEDNOKROTNEGO WYBORU - SKRZYŻOWANIA/

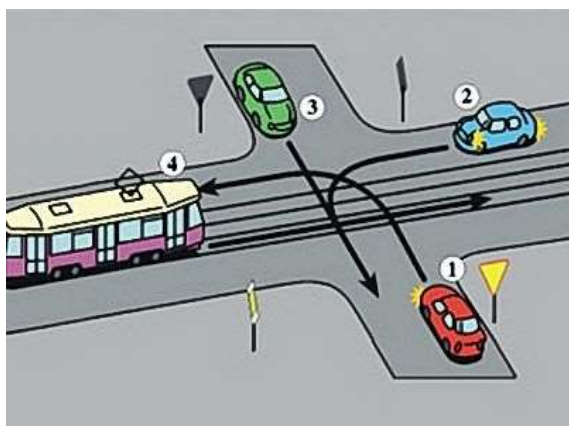
1. W przedstawionej na rysunku sytuacji:
- kierujący pojazdem 1 może przejechać wówczas, gdy pojazdy 2 i 3 opuszczają skrzyżowanie;
 - jako pierwszy pojedzie pojazd nr 1;
 - kierujący pojazdami 2 i 3 mogą jechać równocześnie.



2. W tej sytuacji kierujący rowerem (A):
- przejeżdża przez skrzyżowanie pierwszy;
 - ustępuje pierwszeństwa pojazdowi B;
 - ustępuje pierwszeństwa pojazdowi C.

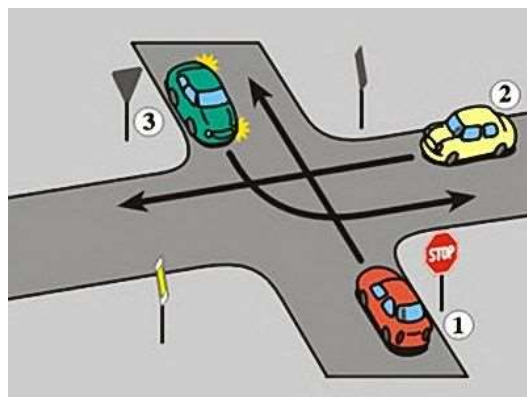


3. Na tym skrzyżowaniu kierujący pojazdem 1:
- ustępuje pierwszeństwa pojazdowi nr 3;
 - ma pierwszeństwo przed pojazdem nr 2;
 - ma pierwszeństwo przed pojazdem nr 4.



d.

4. Na tym skrzyżowaniu kierujący pojazdem 3:
- ma pierwszeństwo przed pojazdem nr 2;
 - ma pierwszeństwo przed pojazdem nr 1;
 - przejeżdża ostatni.



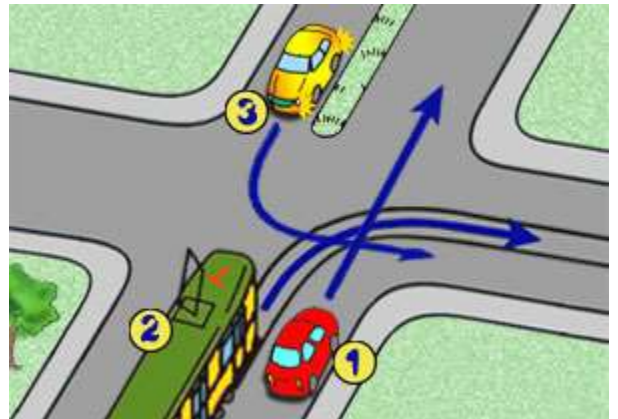
5. Na tym skrzyżowaniu tramwaj przejeżdża:

- a. drugi;
- b. pierwszy;
- c. trzeci.



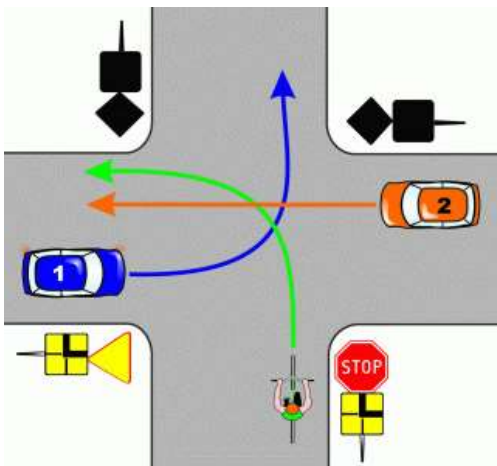
6. Podaj kolejność przejazdu na tym skrzyżowaniu:

- a. 1-2-3;
- b. 2-1-3;
- c. 3-1-2.



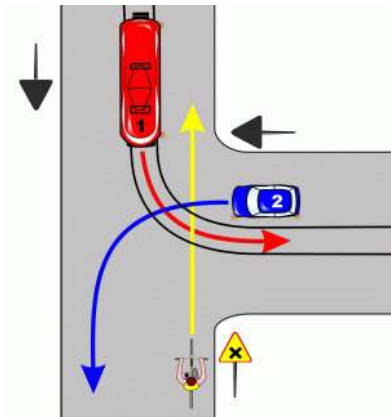
7. W przedstawionej sytuacji rowerzysta:

- a. ustępuje pierwszeństwa pojazdowi nr 2;
- b. ustępuje pierwszeństwa pojazdowi nr 1;
- c. przejeżdża jako pierwszy.



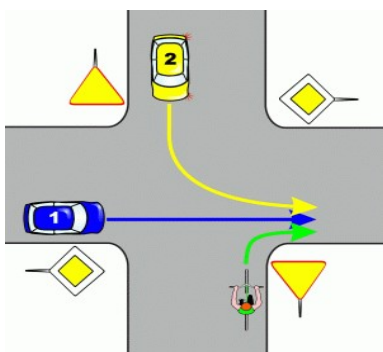
8. W przedstawionej sytuacji rowerzysta:

- a. ustępuje pierwszeństwa tramwajowi i pojazdowi nr 2;
- b. ma pierwszeństwo przed tramwajem;
- c. ustępuje pierwszeństwa tylko pojazdowi nr 2.



9. Na tym skrzyżowaniu rowerzysta:

- a. ma pierwszeństwo przed pojazdem nr 2;
- b. przejeżdża pierwszy;
- c. ma pierwszeństwo przed pojazdem nr 1.



10. W tej sytuacji motorowerzysta (strzałka zielona w lewo):

- a. ma pierwszeństwo przed autobusem;
- b. ustępuje pierwszeństwa autobusowi;
- c. może zawrócić.

